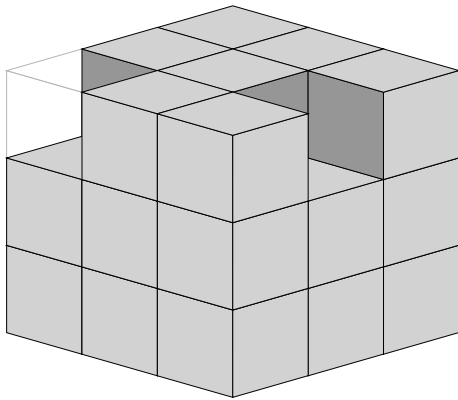


Mathematik / Geometrie

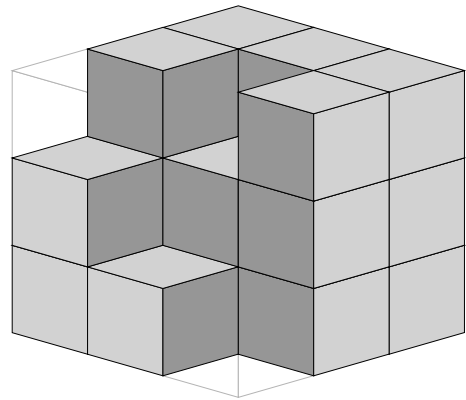
Matheaufgaben für die 3. und 4. Klasse: Fehlende Würfel zählen

Ein großer Würfel soll aus 27 kleinen zusammengesetzt werden. Wie viele fehlen noch?

1

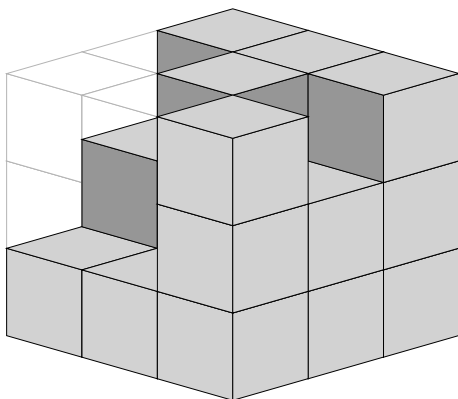


Beispiel: 2 Würfel fehlen

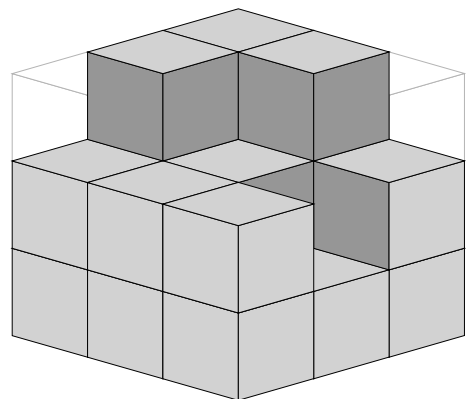


Es fehlen → _____

2

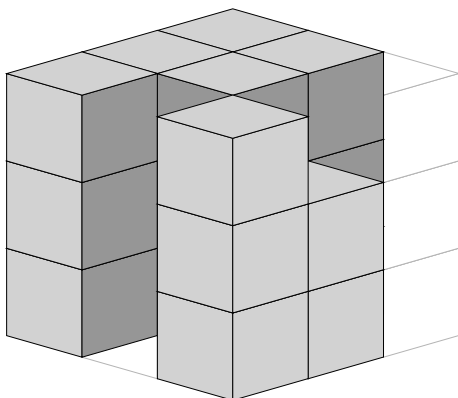


Es fehlen → _____

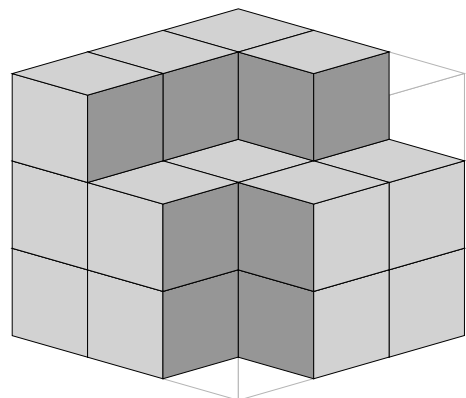


Es fehlen → _____

3



Es fehlen → _____



Es fehlen → _____

Mathematik / Geometrie

Matheaufgaben für die 3. und 4. Klasse: Fehlende Würfel zählen

Ein großer Würfel soll aus 27 kleinen zusammengesetzt werden. Wie viele fehlen noch?

Lösungen

- | | | |
|---|---------------------------|----------------------|
| ① | Beispiel: 2 Würfel fehlen | Es fehlen → 7 Würfel |
| ② | Es fehlen → 6 Würfel | Es fehlen → 7 Würfel |
| ③ | Es fehlen → 7 Würfel | Es fehlen → 7 Würfel |