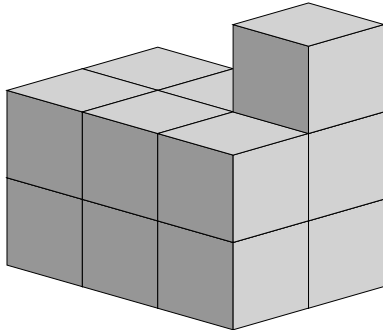


Mathematik / Geometrie

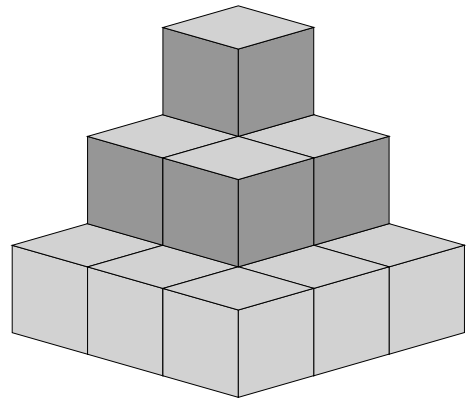
Matheaufgaben für die 3. und 4. Klasse: Fehlende Würfel zählen

Ein großer Würfel soll aus 27 kleinen zusammengesetzt werden. Wie viele fehlen noch?

1

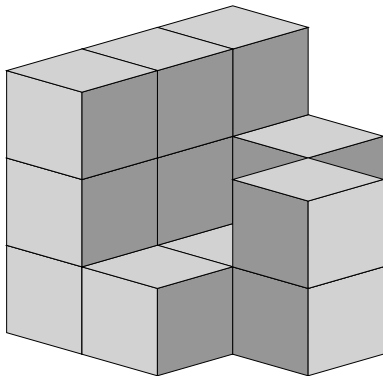


Es fehlen → _____

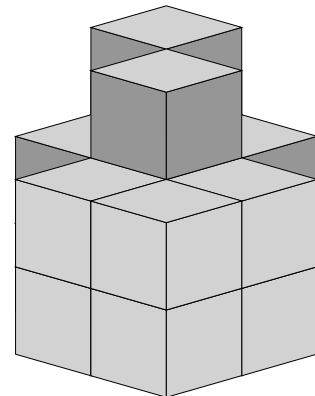


Es fehlen → _____

2

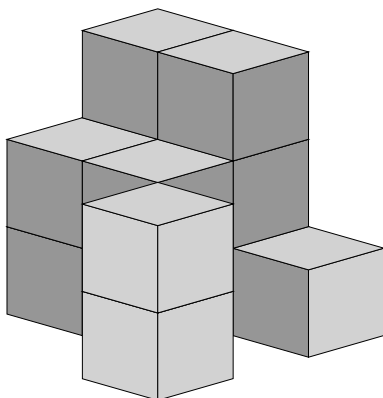


Es fehlen → _____

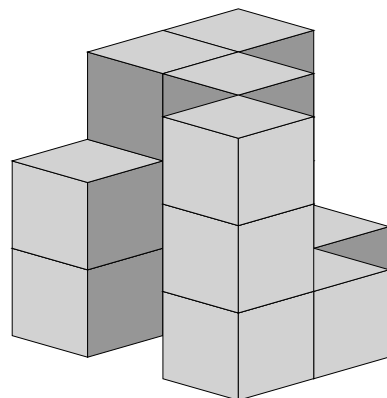


Es fehlen → _____

3



Es fehlen → _____



Es fehlen → _____

Mathematik / Geometrie

Matheaufgaben für die 3. und 4. Klasse: Fehlende Würfel zählen

Ein großer Würfel soll aus 27 kleinen zusammengesetzt werden. Wie viele fehlen noch?

Lösungen

① Es fehlen → 14 Würfel Es fehlen → 13 Würfel

② Es fehlen → 12 Würfel Es fehlen → 11 Würfel

③ Es fehlen → 14 Würfel Es fehlen → 11 Würfel