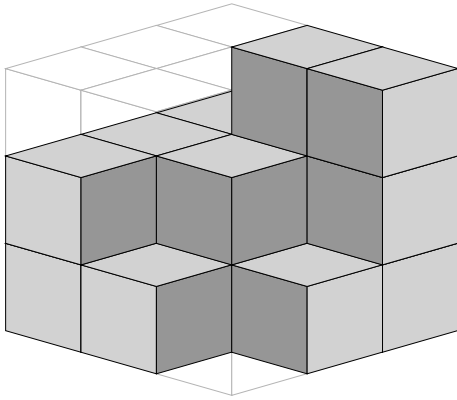


# Mathematik / Geometrie

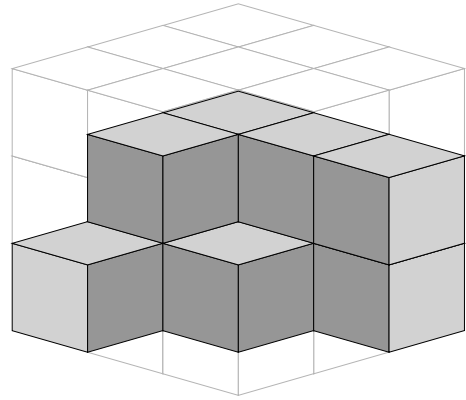
Matheaufgaben für die 3. und 4. Klasse: Fehlende Würfel zählen

Ein großer Würfel soll aus 27 kleinen zusammengesetzt werden. Wie viele fehlen noch?

1)

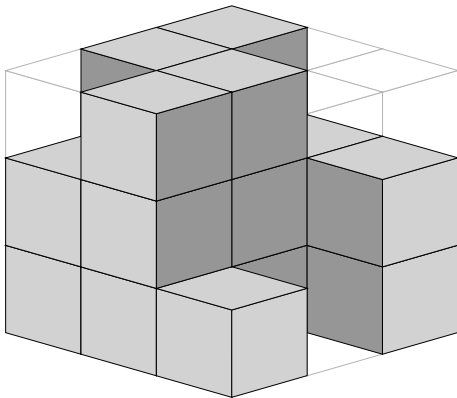


Es fehlen → \_\_\_\_\_

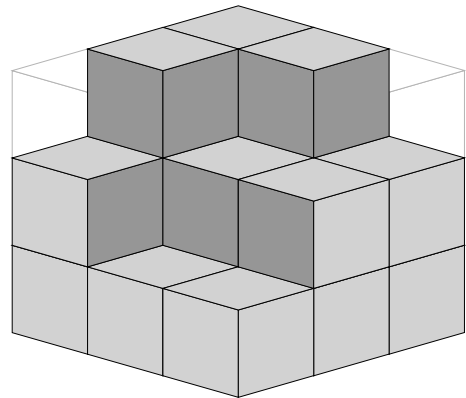


Es fehlen → \_\_\_\_\_

2)

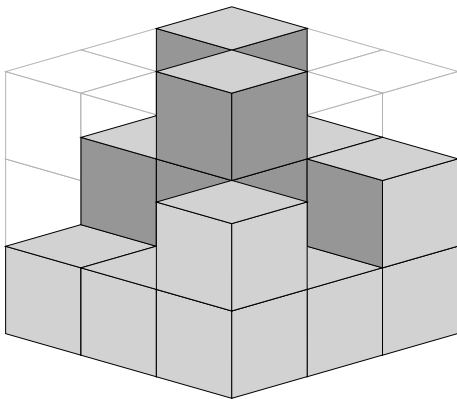


Es fehlen → \_\_\_\_\_

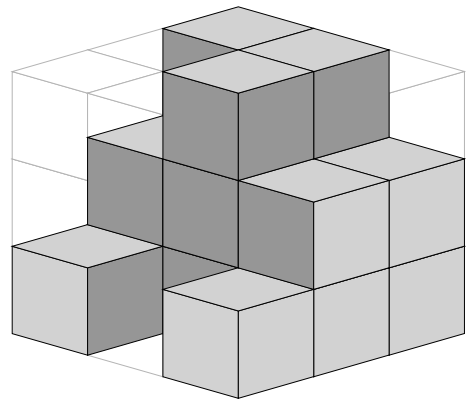


Es fehlen → \_\_\_\_\_

3)



Es fehlen → \_\_\_\_\_



Es fehlen → \_\_\_\_\_

## Mathematik / Geometrie

Matheaufgaben für die 3. und 4. Klasse: Fehlende Würfel zählen

**Ein großer Würfel soll aus 27 kleinen zusammengesetzt werden. Wie viele fehlen noch?**

### Lösungen

- |           |                       |                       |
|-----------|-----------------------|-----------------------|
| <b>1)</b> | Es fehlen → 11 Würfel | Es fehlen → 17 Würfel |
| <b>2)</b> | Es fehlen → 8 Würfel  | Es fehlen → 8 Würfel  |
| <b>3)</b> | Es fehlen → 10 Würfel | Es fehlen → 10 Würfel |