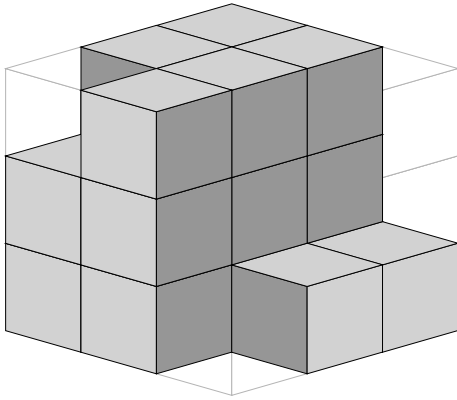


Mathematik / Geometrie

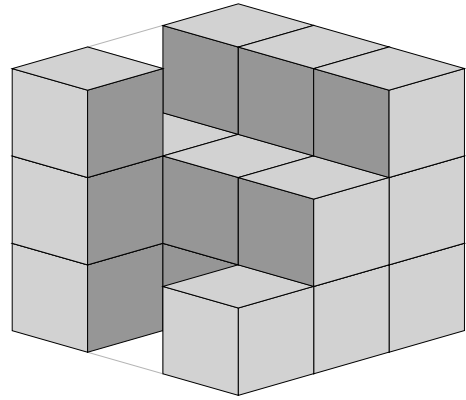
Matheaufgaben für die 3. und 4. Klasse: Fehlende Würfel zählen

Ein großer Würfel soll aus 27 kleinen zusammengesetzt werden. Wie viele fehlen noch?

1)

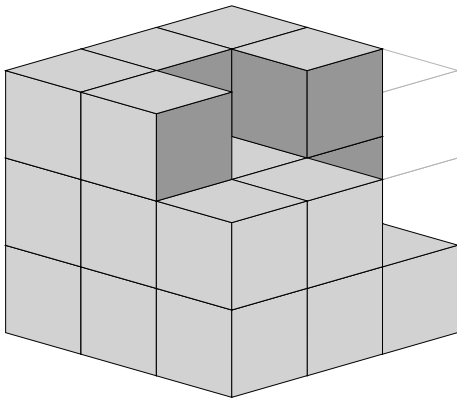


Es fehlen → _____

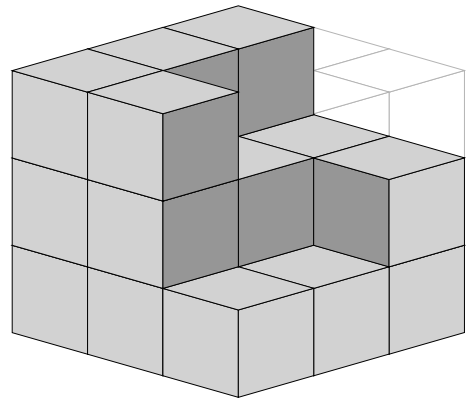


Es fehlen → _____

2)

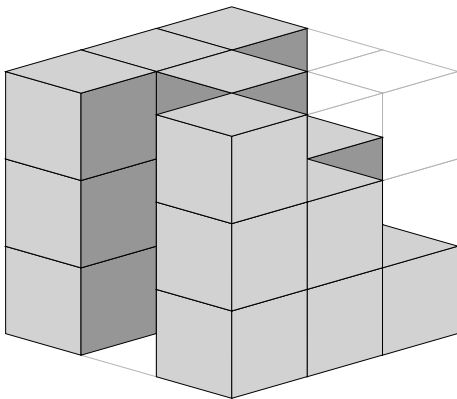


Es fehlen → _____

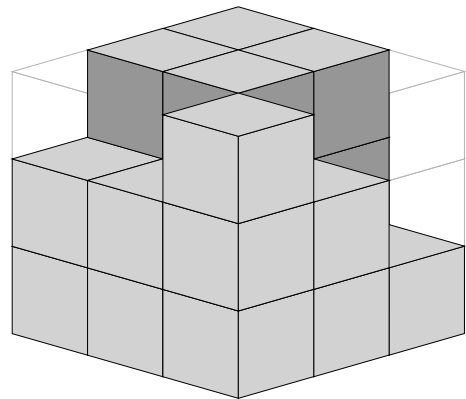


Es fehlen → _____

3)



Es fehlen → _____



Es fehlen → _____

Mathematik / Geometrie

Matheaufgaben für die 3. und 4. Klasse: Fehlende Würfel zählen

Ein großer Würfel soll aus 27 kleinen zusammengesetzt werden. Wie viele fehlen noch?

Lösungen

1) Es fehlen \rightarrow 8 Würfel

Es fehlen \rightarrow 8 Würfel

2) Es fehlen \rightarrow 5 Würfel

Es fehlen \rightarrow 7 Würfel

3) Es fehlen \rightarrow 7 Würfel

Es fehlen \rightarrow 5 Würfel