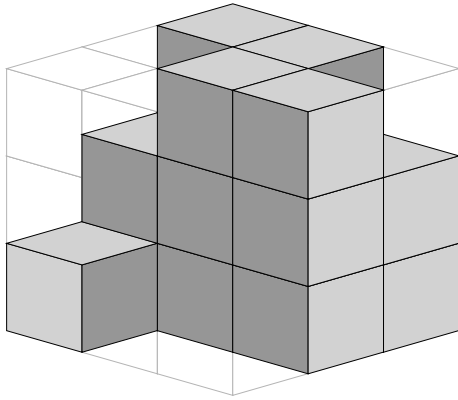


Mathematik / Geometrie

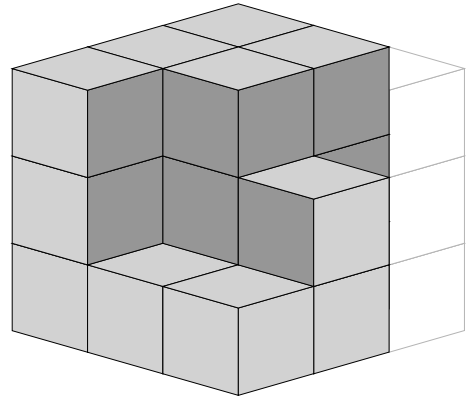
Matheaufgaben für die 3. und 4. Klasse: Fehlende Würfel zählen

Ein großer Würfel soll aus 27 kleinen zusammengesetzt werden. Wie viele fehlen noch?

1)

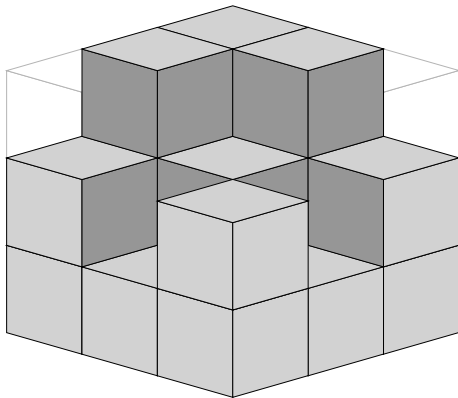


Es fehlen → _____

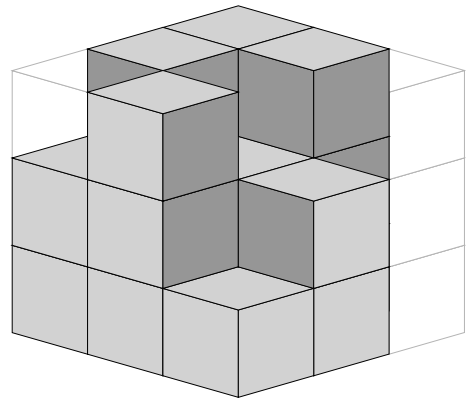


Es fehlen → _____

2)

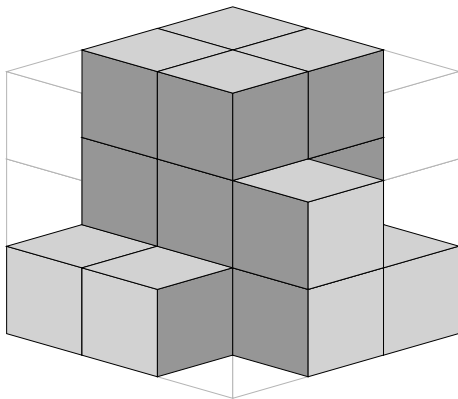


Es fehlen → _____

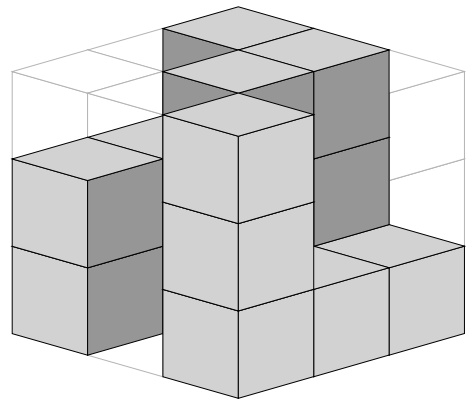


Es fehlen → _____

3)



Es fehlen → _____



Es fehlen → _____

Mathematik / Geometrie

Matheaufgaben für die 3. und 4. Klasse: Fehlende Würfel zählen

Ein großer Würfel soll aus 27 kleinen zusammengesetzt werden. Wie viele fehlen noch?

Lösungen

- | | | |
|-----------|-----------------------|----------------------|
| 1) | Es fehlen → 10 Würfel | Es fehlen → 8 Würfel |
| 2) | Es fehlen → 8 Würfel | Es fehlen → 8 Würfel |
| 3) | Es fehlen → 10 Würfel | Es fehlen → 9 Würfel |