


# Mathematik / Grundrechenarten

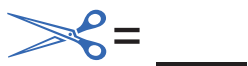

Matheaufgaben für die 1. Klasse und Vorschule: Grafiken zählen bis 10

Wie viele Bilder findest Du von jeder Sorte?

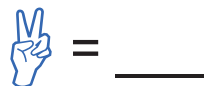
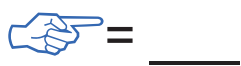

1)



2)



3)



# Mathematik / Grundrechenarten

Matheaufgaben für die 1. Klasse und Vorschule: Grafiken zählen bis 10

## Lösungen

1)

$\star = 9$

$\odot = 3$

$\bigcirc = 9$

2)

$\text{✂} = 8$

$\text{✉} = 3$

$\text{✎} = 10$

3)

$\text{☞} = 7$

$\text{✌} = 7$

$\text{✍} = 7$