


Mathematik / Grundrechenarten


Matheaufgaben für die 1. Klasse: Subtrahieren bis 10

Nutze die Bilder für die Subtraktion und streiche die richtige Anzahl durch:

1)




$8 - 7 = 1$




$8 - 3 = \underline{\quad}$

2)




$8 - 5 = \underline{\quad}$




$8 - 1 = \underline{\quad}$

3)




$8 - 2 = \underline{\quad}$




$8 - 4 = \underline{\quad}$

4)



$8 - 8 = \underline{\quad}$




$8 - 6 = \underline{\quad}$

Mathematik / Grundrechenarten


Matheaufgaben für die 1. Klasse: Subtrahieren bis 10

Lösungen

1)




$$8 - 7 = 1$$




$$8 - 3 = 5$$

2)




$$8 - 5 = 3$$




$$8 - 1 = 7$$

3)




$$8 - 2 = 6$$




$$8 - 4 = 4$$

4)



$$8 - 8 = 0$$



$$8 - 6 = 2$$