

Mathematik / Grundrechenarten

Matheaufgaben für die 1. Klasse: Subtrahieren bis 10


Nutze die Bilder für die Subtraktion und streiche die richtige Anzahl durch:



$$7 - 1 = 6$$



$$9 - 5 = \underline{\quad}$$



$$9 - 7 = \underline{\quad}$$




$$6 - 4 = \underline{\quad}$$



$$6 - 2 = \underline{\quad}$$



$$8 - 3 = \underline{\quad}$$



$$8 - 6 = \underline{\quad}$$



$$10 - 5 = \underline{\quad}$$



$$7 - 4 = \underline{\quad}$$




$$10 - 6 = \underline{\quad}$$

Mathematik / Grundrechenarten


Matheaufgaben für die 1. Klasse: Subtrahieren bis 10

Lösungen

1)




$$7 - 1 = 6$$




$$9 - 5 = 4$$

2)




$$9 - 7 = 2$$




$$6 - 4 = 2$$

3)




$$6 - 2 = 4$$




$$8 - 3 = 5$$

4)




$$8 - 6 = 2$$




$$10 - 5 = 5$$

5)



$$7 - 4 = 3$$



$$10 - 6 = 4$$